

1

Voie bleue de Mâcon à Sancé

Secteur
Mâcon

Longueur

5,34 km

Montée totale

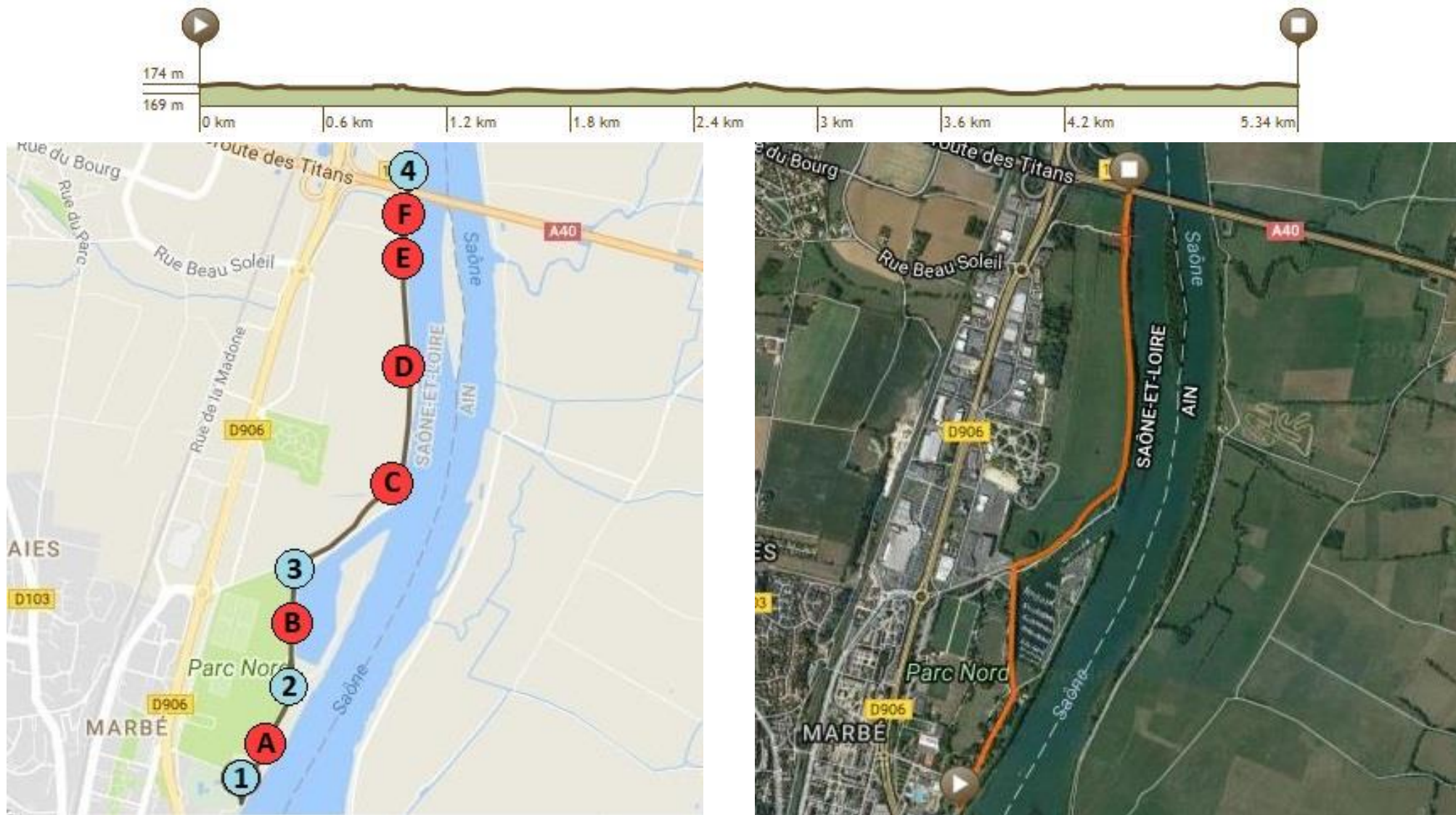
10 m

Descente maximale







10 m




Pente maximale

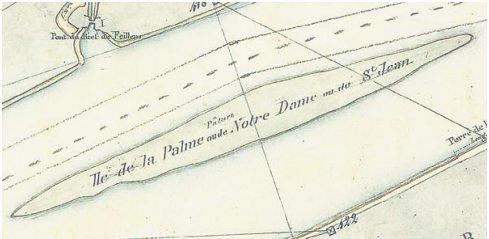




1,07 %




Itinéraire

Repère	Distance	Repères	Explications	Questions
1	0,00 km	 	<p>Départ devant le panneau PK 82.</p> <p>Prenez le chemin piéton qui longe la Saône.</p> <p>Suivez ce chemin en ayant la Saône sur votre droite et les arbres sur votre gauche.</p>	
A	0,09 km		<p>Vous arrivez près d'un anneau sur votre droite (côté Saône).</p> <p>Prenez quelques instants pour répondre à ces petites questions.</p>	<p><i>Vous marchez sur un chemin vieux de plusieurs centaines d'années.</i></p> <ul style="list-style-type: none"> • Quelle était l'utilité de ce chemin ? • Pourquoi avoir placé un anneau ici ? <p>Indice :</p> 
2	0,49 km	 	<p>Tournez à gauche après le restaurant Le Poisson d'Or.</p> <p>Traversez la route menant au port puis la deuxième route.</p> <p>Prenez à droite pour longer le parcours P.A.P.A.</p>	

<p>B</p>	<p>0,77 km</p>		<p>Vous longez un port. Arrêtez-vous un moment pour répondre à ces questions.</p>	<p>Il s'agit d'un des dix plus grands ports de France de ce type.</p> <ul style="list-style-type: none"> • Comment s'appelle ce type de port ? • Sur la feuille réponse, barre les bateaux qui ne sont pas présents dans le port.
<p>3</p>	<p>1,00 km</p>		<p>Sur le rond-point, tournez à droite en passant sous l'arche.</p>	
<p>C</p>	<p>1,52 km</p>		<p>Vous arrivez à présent près d'un panneau intitulé « La Saône » sur votre droite.</p> <p>Nouvelle pause pour de nouvelles questions.</p>	<ul style="list-style-type: none"> • Dans quel massif montagneux la Saône prend-elle sa source ? • Note les six départements qu'elle traverse. <p>« Il y a une rivière, la Saône [...] son cours est d'une incroyable lenteur, au point que l'œil ne peut juger du sens du courant » (Jules César)</p> <p>Ton œil est-il meilleur que celui de Jules César ?</p> <ul style="list-style-type: none"> • Sur la feuille réponse, fait un croquis faisant apparaître le sens du courant en indiquant bien la rive droite et la rive gauche.

<p>D</p>	<p>2,11 km</p>		<p>Vous arrivez près d'une île portant trois noms : Ile de la Palme, Ile de Notre-Dame et Ile de Saint Jean</p> <p>C'est l'occasion de se creuser à nouveau les méninges.</p>	<p>De nombreux nids sont visibles dans les arbres morts. Regarde la vidéo suivante :</p>  <ul style="list-style-type: none"> • De quels animaux s'agit-il ?
<p>E</p>	<p>2,34 km</p>		<p>Vous trouverez de nombreux panneaux PK le long de votre itinéraire.</p> <p>Arrêtez-vous donc à celui intitulé PK 84 pour répondre à de nouvelles questions.</p>	<p>Les PK sont des Points Kilométriques qui indiquent la distance séparant ces points de la confluence avec le Rhône.</p> <ul style="list-style-type: none"> • A combien de kilomètres sommes-nous donc de cette confluence ? • D'ailleurs, qu'est-ce qu'une confluence ? <p>Indice :</p> 
<p>4 F</p>	<p>2,68 km</p>		<p>En arrivant sous le pont, faites demi-tour.</p> <p>Retournez au point de départ par le même chemin</p>	<p>Tu entends des véhicules passant à grande vitesse au-dessus de toi.</p> <ul style="list-style-type: none"> • En regardant ton roadbook, donne le nom de cette route. • Si nous la suivons vers l'Est, jusqu'à quel pays nous conduira-t-elle ?

Réponses

A	Quelle était l'utilité de ce chemin ?	
	Pourquoi avoir placé un anneau ici ?	
B	Comment s'appelle ce type de port ?	
	Barre les bateaux absents du port	

C	Dans quel massif montagneux la Saône prend-elle sa source ?	
	Les 4 départements traversés sont	<ul style="list-style-type: none"> ● ● ●
	Croquis du sens du courant	
D	De quels animaux s'agit-il ?	
E	A combien de kilomètres sommes-nous de la confluence ?	
	Qu'est-ce qu'une confluence ?	
F	Quel est le nom de cette route ?	
	Jusqu'à quel pays nous conduit-elle ?	