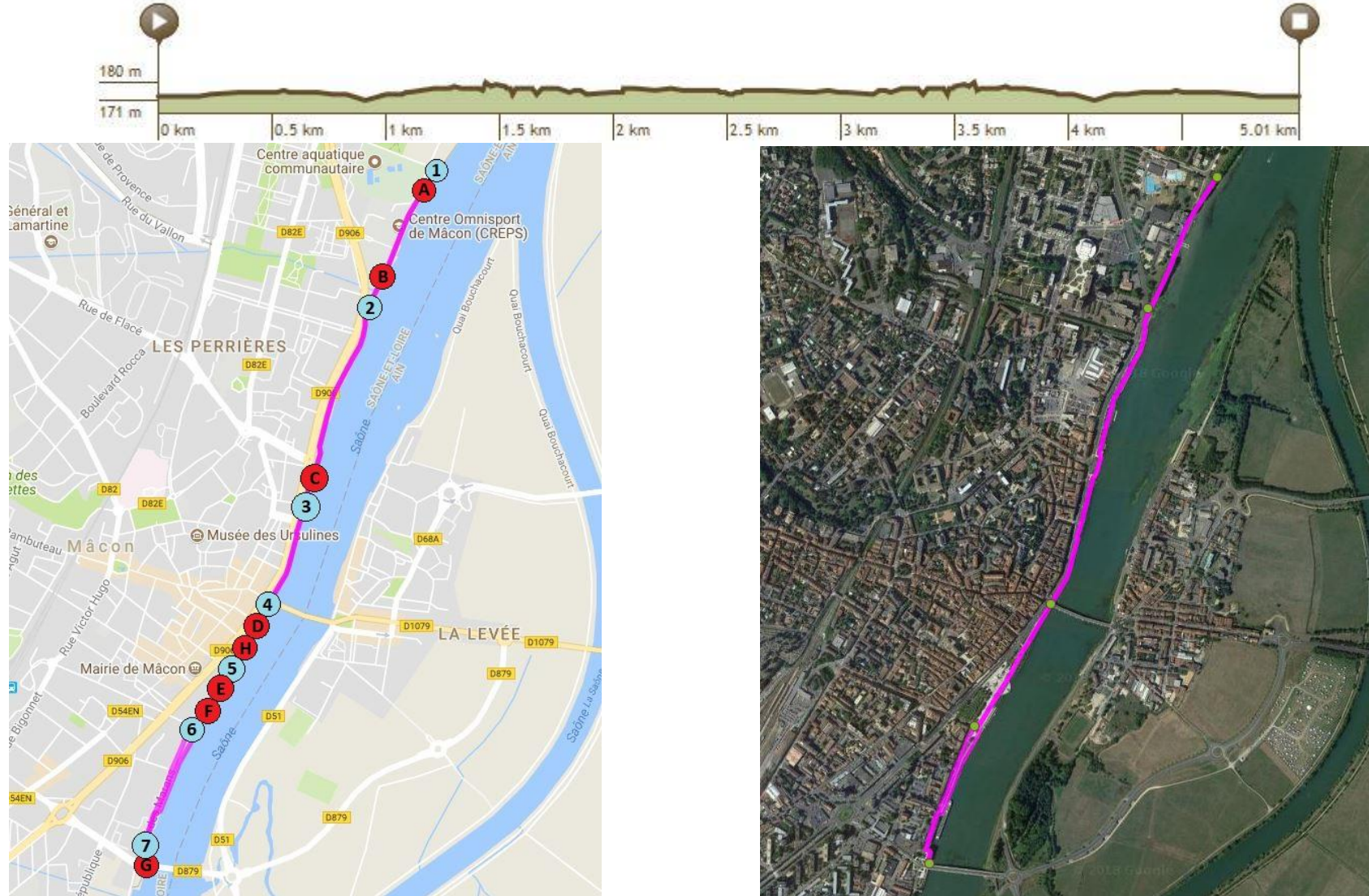


2

De papa à tonton






Secteur
Mâcon






Longueur	Montée totale	Descente maximale	Pente maximale
5,01 km	26 m	26 m	3,05 %









Document élaboré par la Circonscription de Mâcon Sud

Itinéraire

Repère	Distance	Repères	Explications	Questions
1	0,00 km		<p>Départ devant le panneau PK 82.</p> <p>Prenez le chemin piéton qui longe la Saône.</p> <p>Suivez ce chemin en ayant la Saône sur votre gauche et la piscine sur votre droite.</p>	
A	0,05 km		<p>Arrêtez-vous un instant devant le panneau 1000 pour répondre à une petite question.</p>	<ul style="list-style-type: none"> • Que signifie ce 1000 et dans quelle discipline est-il utilisé ? <p>Indice :</p> 
B	0.32 km		<p>Approchez-vous de ce bâtiment et observez autour de vous.</p> <p>Vous êtes prêts pour quelques questions sur ce mystérieux bâtiment.</p>	<ul style="list-style-type: none"> • Quel était l'usage de ce bâtiment jusqu'en (date) ? <p>Indice :</p>  <p>A partir de la photo indice, retrouve l'emplacement des bassins.</p> <ul style="list-style-type: none"> • Peut-on encore voir des traces de l'emplacement du plongeur ?

2	0,51 km		<p>Lorsque vous rejoignez la route, prenez sur votre gauche, toujours en longeant la Saône.</p>	
C	1,28 km		<p>En arrivant à la hauteur de l'église de St Laurent-sur-Saône, vous apercevez un panneau fixé sur la balustrade à votre gauche.</p> <p>Prenez un instant pour le lire.</p>	<ul style="list-style-type: none"> • En face de quel hôtel la base des hydravions est-elle installée ? • Cet hôtel existe-t-il toujours ? • Que transportaient ces hydravions ?
3	1,30 km		<p>Après avoir passé les derniers arbres sur votre droite, prenez la Voie Bleue sur votre gauche.</p> <p>Continuez sur la Voie Bleue et passez sous le pont.</p>	
D	1,53 km		<p>Passez sous le pont.</p> <p>Sur la deuxième arche, vous pouvez voir une échelle limnimétrique.</p>	<ul style="list-style-type: none"> • A quoi sert cette échelle ? • A ton avis, pourquoi y avait-il un fort sur le pont de Saint-Laurent ? <p>Indice :</p> 

5	1,68 km		<p>Remontez sur l'esplanade et prenez à gauche.</p> <p>Continuez sur quelques mètres puis prenez le chemin sur votre droite pour entrer dans le jardin romantique et repérez le poème (vous le lirez au retour).</p>	
E	1,86 km		<p>Installez-vous sur les gradins et jetez un œil au pont de St Laurent sur votre gauche.</p>	<ul style="list-style-type: none"> • Réalise un croquis du pont de St Laurent
F	2,01 km		<p>Vous arrivez près d'un étrange arbre de panneaux.</p>	<ul style="list-style-type: none"> • Classe les villes de la plus proche de Mâcon à la plus éloignée
6	2,04 km		<p>Au bout de l'esplanade, continuez tout droit en direction de la Voie Verte.</p>	

7	2,46 km		<p>Juste avant d'arriver au pont, tournez à gauche sur la petite place.</p> <p>Suivez l'allée qui descend jusque sous le pont.</p> <p>Faites ensuite demi-tour et retournez à votre point de départ.</p>	<ul style="list-style-type: none"> • Barre les matériaux qui n'ont pas été utilisés pour la fabrication de ce pont • Avec le matériel fourni sur place, construis un pont ayant la plus longue portée possible.
G				
H	3,19 km		Lisez le poème repéré à l'aller.	<ul style="list-style-type: none"> • Ce poème est l'œuvre d'un écrivain mâconnais très célèbre. Comment s'appelle-t-il ? (la réponse se trouve quelque part autour de toi)

Réponses

A	Que signifie ce 1000 et dans quelle discipline est-il utilisé ?	
B	Quel était l'usage de ce bâtiment ?	
	Peut-on encore voir des traces de l'emplacement du plongeoir ?	
C	En face de quel hôtel la base des hydravions est-elle installée ?	
	Cet hôtel existe-t-il toujours ?	
	Que transportaient ces hydravions ?	
D	A quoi sert cette échelle ?	
	A ton avis, pourquoi y avait-il un fort sur le pont de Saint-Laurent ?	
E	Réalise un croquis du pont de St Laurent	

F	Classe les villes de la plus proche de Mâcon à la plus éloignée	1. 2. 3. 4. 5.	6. 7. 8. 9.
G	Barre les matériaux qui n'ont pas été utilisés pour la fabrication de ce pont		
H	Comment s'appelle l'auteur de ce poème ?		